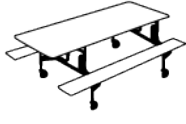


v4|a10

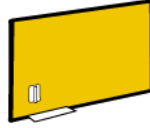
el mapa de la pobreza al món



Cicle superior



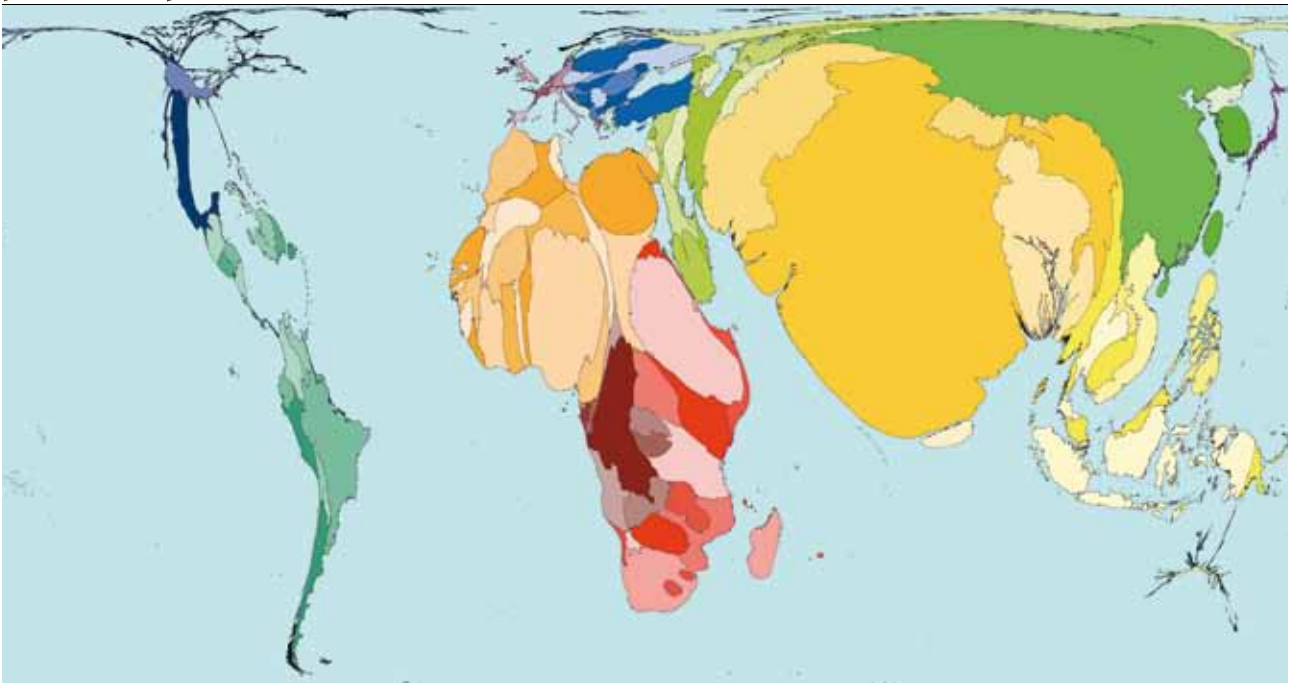
Aula



Per als infants

Coneixement del
medi natural, social
i cultural
Ed. per a la ciutadania i els DDHH
Llengües
Àrea

A.- Observeu aquest mapa; a més superfícies dels continents, més pobresa de les persones que hi viuen.



2006 SASI Group (Universitat de Sheffield) i Mark Newman (Universitat de Michigan)

B.- Responen les següents preguntes.

On hi ha més nens que treballen, al Nord o al Sud?

En quins continents hi ha més nens i nenes?

En quins continents creieu que hi ha els països amb més riquesa?

On creieu que hi ha explotació infantil? Per què creieu que és així?

Anoten el nom d'algun dels països on creieu que hi ha més explotació infantil.

C.- Sou periodistes i feu un viatge a un país del Sud. Quan visiteu una fàbrica, observeu que hi ha infants que estan treballant. Escriviu una notícia.